

## Bộ phiếu ôn tập ở nhà lớp 2

### Phiếu số 1

#### 1/ Điền số:

##### 1.1

a)  $4 \times 6 + 16 = \dots\dots\dots$

b)  $20 : 4 \times 6 = \dots\dots\dots$

c)  $16l + 5l - 10l = \dots\dots\dots$

d)  $24\text{kg} - 13\text{kg} + 4\text{kg} = \dots\dots\dots$

##### 1.2

a/  $3 \times 6 + 41 = \dots\dots\dots$

$= \dots\dots\dots$

c/  $4 \times 7 - 16 = \dots\dots\dots$

$= \dots\dots\dots$

b/  $45 : 5 - 5 = \dots\dots\dots$

$= \dots\dots\dots$

d/  $16 : 2 + 37 = \dots\dots\dots$

$= \dots\dots\dots$

#### 2/ Điền số thích hợp vào chỗ chấm

1m = .....dm

100cm = .....m

1m = .....cm

10dm = .....m

**Câu 3: Tìm tích của hai số 4 và 8 là:**

A: 32

B: 33

C: 31

D: 34

**Câu 4: 21 kg : 3 có kết quả là:**

A: 7 kg

B: 6 kg

C: 4 kg

D: 3 kg

**Câu 5: 5 kg x 6 có kết quả là:**

A: 30 kg

B: 31 kg

C: 29 kg

D: 32 kg

**Câu 6:  $4 \times 8 - 10$  có kết quả là:**

A: 16

B: 17

C: 19

D: 22

**Câu 7:  $5 \times 5 + 6$  có kết quả là:**

A: 31

B: 30

C: 29

D: 33

**Câu 8:  $6: 3 \times 3$  có kết quả là:**

A: 8

B: 9

C: 6

D: 7

**Câu 9:  $8: 2: 2$  có kết quả là:**

A: 2

B: 3

C: 4

D: 5

**Câu 10: Tính nhẩm:**

$$8 \times 2 = \dots\dots$$

$$24 : 4 = \dots\dots$$

$$18 : 3 = \dots\dots$$

$$3 \times 5 = \dots\dots$$

$$4 \times 9 = \dots\dots$$

$$30 : 5 = \dots\dots$$

$$5 \text{ cm} \times 2 = \dots\dots$$

$$5 \text{ dm} \times 5 = \dots\dots$$

**Câu 11: Tính:**

$$27: 3 + 90 = \dots\dots = \dots\dots$$

$$45 - 40 + 7 = \dots\dots = \dots\dots$$

$$4 \times 8 - 20 = \dots\dots = \dots\dots$$

**Câu 12: Đặt tính rồi tính:**



$45 + 39$

$18 + 65$

$81 - 19$


$100 - 84$

$97 - 5$


Câu 13: Mỗi tuần lễ mẹ đi làm 5 ngày. Hỏi 4 tuần lễ mẹ đi làm mấy ngày?

Bài giải


Câu 14: Nói đồng hồ ứng với cách đọc của nó:



1 giờ 30 phút



10 giờ



7 giờ 20 phút

15/ Có một số kg gạo đựng trong 5 túi. Mỗi túi có 5kg gạo. Hỏi có tất cả bao nhiêu ki-lô-gam gạo?

## Bài giải

### Phiếu số 2

#### 1. Điền vào chỗ trống

a, *Rời* hay *giời* ?

Tàu .....ga ; Sơn Tinh.....tùng dãy núi đi

b, *Giữ* hay *dữ*

Hổ là loài thú..... ; Bộ đội canh ..... biển trời

#### 2. Đặt câu hỏi cho bộ phận được gạch chân trong mỗi câu dưới đây :

a, Cây hoa được trồng ở trong vườn

b, Ngựa phi nhANH NHU bay

#### 3/ Chọn chữ trong ngoặc đơn điền vào chỗ trống:

(chúc; trúc)      cây.....; .....mừng.

(chở, trở)      .....lại ;    che .....



**4/ Cho các câu sau, mỗi câu thuộc loại mẫu câu nào?**

a. Cây đào nở hoa cho sắc xuân thêm rực rỡ, ngày xuân thêm tung bừng.

.....

b. Bàn tay thầy dịu dàng, đầy trùi mến, thương yêu.

.....

c. Giữa cánh đồng, đàn trâu đang thung thăng gặm cỏ.

.....

d. Bà ngoại lên thăm em vào tháng trước.

.....

**5/ Trong câu sau có mấy từ chỉ đặc điểm? Đó là những từ nào?**

*Mấy bông hoa vàng tươi như những đốm nắng nở sáng trưng trên giàn mướp xanh mát.*

Có.....từ. Đó là các từ: .....

**6. Khi viết hết câu ta dùng dấu gì?**

A, Dấu chấm.      B, Dấu chấm than.      C, Dấu chấm hỏi.      D. Không cần dấu

**7. Cặp từ nào sau đây là cặp từ trái nghĩa**

a/ Nóng bức – oi nồng;      b/ Yêu thương – quý mến;      c/ Yêu – ghét

8/ Quả măng cụt **tròn như quả cam**. Trả lời cho câu hỏi:

A. Là gì?      B. Làm gì?      C. Như thế nào?

**9/ Đặt câu hỏi cho bộ phận được in đậm**

a) Người ta trồng lúa **để lấy gạo**.

.....

b) **Khi mùa hè đến**, cuốc kêu ra rã.

-----  
10/ Đặt dấu chấm hay dấu phẩy vào chỗ chấm, rồi viết lại cho đúng chính tả.

Khi bé bước ra ....cả nhà tươi cười chào bé ... cả căn phòng bỗng chan hòa ánh sáng....mọi người gọi bé ... giơ những bàn tay trìu mến vẫy bé.

**11/ Đọc câu chuyện và trả lời câu hỏi:**

*Một cô bé lần đầu tiên về quê chơi. Gặp cái gì cô cũng lấy làm lạ. Thấy một con vật đang gặm cỏ, cô hỏi cậu anh họ:*

*- Sao con bò này không có sừng hả anh?*

*Cậu anh đáp:*

*- Bò không có sừng vì nhiều lý do lắm. Có con bị gãy sừng. Có con còn non chưa có sừng. Riêng con này không có sừng vì nó ..... là con ngựa.*

a. Lần đầu tiên về quê chơi, cô bé thấy thế nào?

.....

b. Thực ra con vật mà cô bé nhìn thấy là con gì?

.....

Viết 10 từ:

- Chỉ người.....

- Chỉ con vật.....

- Chỉ đồ vật.....

- Chỉ cây cối.....

- Chỉ hoạt động.....

- Chỉ đặc

điểm.....

## Phiếu số 3

### I - MÔN TOÁN

#### 1. Viết số thích hợp vào ô trống:

Thừa số	1	2	3	4	5	4	3	2	5	1	3
Thừa số	7	6	7	6	5	4	3	2	1	4	6
Tích											

Thừa số	5	4	3	2	2	3	4	5	2	4	5
Thừa số	9	8	9	8	9	8	7	6	7	9	8
Tích											

#### 2/ Tính?

a.  $5 \times 4 + 27 = \dots\dots\dots$       b.  $4 \times 7 - 19 = \dots\dots\dots$       c.  $3 \times 9 + 45 = \dots\dots\dots$

d.  $3 \times 8 - 15 = \dots\dots\dots$       e.  $2 \times 9 + 36 = \dots\dots\dots$       g.  $5 \times 5 - 18 = \dots\dots\dots$

$13l - 8l + 5l =$        $43\text{kg} - 17\text{kg} - 6\text{kg} =$        $42\text{kg} - 15\text{kg} + 6\text{kg} =$

$13\text{dm} - 5\text{dm} + 8\text{dm} =$        $18\text{cm} + 25\text{cm} - 37\text{cm} =$        $21\text{dm} + 19\text{dm} + 8\text{dm} =$

#### 3. Tìm x:

a)  $72 - x = 24$       b)  $x - 18 = 57$       c)  $x + 29 = 64$       d)  $17 + x = 34$

e)  $75 - 57 + x = 67$       g)  $18 + 19 + x = 45$       h)  $x + 58 = 49 + 36$

i)  $47 + x = 95 - 19$       k)  $100 - 28 - x = 45$       l)  $48 + 52 - x = 75$

4/ Lớp 2A thảo luận nhóm; mỗi nhóm có bốn bạn, cả lớp gồm 9 nhóm. Hỏi lớp 2A có bao nhiêu học sinh?



.....  
.....  
.....  
**5. Mỗi bàn có 2 học sinh ngồi . Hỏi 6 bàn có bao nhiêu học sinh ngồi?**

.....  
.....  
.....  
**6. Mỗi túi gạo có 3 kg gạo . Hỏi 5 túi gạo như thế có bao nhiêu ki-lô-gam gạo?**

.....  
.....  
.....  
**7. Con kiến đi từ A qua B , qua C rồi đến D. Hỏi con kiến đi từ A đến D được quãng đường dài bao nhiêu đề-xi-mét? Biết  $AB = BC = CD = 2 \text{ dm}$ .**

.....  
.....  
.....  
**8. Một người nuôi thỏ có 8 chuồng thỏ, mỗi chuồng nhốt 5 con thỏ. Hỏi người đó nuôi bao nhiêu con thỏ?**

.....  
.....  
.....  
**9. Trong can đã có 17 lít nước. Vậy cần đổ thêm vào bao nhiêu lít nước nữa để trong can có 2 chục lít nước.**



.....  
.....  
.....  
10. Bé Mai cao 9dm7cm, bé Mai thấp hơn bé Hoa 2cm. Vậy bé Hoa cao bao nhiêu xăng – ti – mét?

.....  
.....  
.....  
11. Số hạng thứ nhất là 7, tổng của hai số hạng là 70. Vậy số hạng thứ hai là bao nhiêu?

.....  
.....  
.....  
12. Vườn nhà Bình có 6 chục cây gồm cây cam và bưởi. Trong đó có 35 cây cam. Vậy vườn nhà Bình có bao nhiêu cây bưởi?

.....  
.....  
.....  
13. Có hai can đựng nước. Sau khi đổ 5 lít từ can thứ nhất sang can thứ hai thì mỗi can đều có hai chục lít nước. Vậy lúc đầu can thứ hai có bao nhiêu lít nước?

.....  
.....  
.....  
14. Tính độ dài đường gấp khúc có độ dài các đoạn thẳng là 2 dm và 34 cm.

.....  
.....  
.....  
15. Tính độ dài đường gấp khúc có độ dài các đoạn thẳng là 1 dm ; 2 dm ; 3cm.

.....  
.....  
.....  
16. Tính độ dài đường gấp khúc có độ dài các đoạn thẳng là 1dm ; 2cm ; 3 cm ; 4cm

.....  
.....  
.....  
17. Viết tiếp ba số nữa: a) 8 ; 10 ; 12 ; ... ; ... ; ... ; 20. b) 50 ; 45 ; 40 ; ... ; ... ; ... ; 20.

**Phiếu số 4**

**1. Có thể đặt dấu phẩy vào những chỗ nào trong từng câu của đoạn văn sau:**

Từ xa nhìn lại cây gạo sừng sững như một tháp đèn khổng lồ. Hàng ngàn bông hoa là hàng ngàn ngọn lửa hồng tươi. Hàng ngàn búp nõn là hàng ngàn ánh nến trong xanh. Tất cả đều lóng lánh lung linh trong nắng. Chào mào sáo sậu sáo đen ... đàn đàn lũ lũ bay đi bay về lượn lên lượn xuống.

*(Vũ Tú Nam)*

2. a) Gạch dưới chữ viết sai chính tả (s/x) rồi chép lại từng câu cho đúng:

(1) Bé xay xua đứng ngắm hoa xúng nở sen lẫn với hoa xen trong hồ.

.....  
.....  
(2) Con chim xẻ đậu trên sà nhà bỗng xà xuống xát đất rồi bay vụt qua cửa sổ.

.....  
.....  
.....  
**3. Đặt câu để phân biệt các từ trong mỗi cặp:**

rễ - dễ

- (rễ).....

- (dễ) .....

(Lưu ý: Ngoài ra cha mẹ có thể cho con đọc sách, báo, truyện thiếu nhi, mỗi ngày 1 câu chuyện)

## II - MÔN TIẾNG ANH

**Bài 1: Em hãy viết chính tả các từ sau đây, mỗi từ viết thuộc 4 dòng:**

Nut	Olive	Pen	Moon	Lemon	Kite	Jam
Net	Orange	Panda	Mouse	Lion	Kitten	Jelly
Nest	Octopus	Parrot	Milk	Lollipop	Koala	Juice
Nose	Omelette	Pony	Monkey	Lamp	Kangaroo	Jacket

**Bài 2: Em hãy dịch các từ sau đây sang tiếng Việt và viết vào vở**



Nut	Olive	Pen	Moon	Lemon	Kite	Jam
Net	Orange	Panda	Mouse	Lion	Kitten	Jelly
Nest	Octopus	Parrot	Milk	Lollipop	Koala	Juice
Nose	Omelette	Pony	Monkey	Lamp	Kangaroo	Jacket

Tham khảo: <https://vndoc.com/tieng-viet-lop-2>

<https://vndoc.com/toan-lop-2>

